
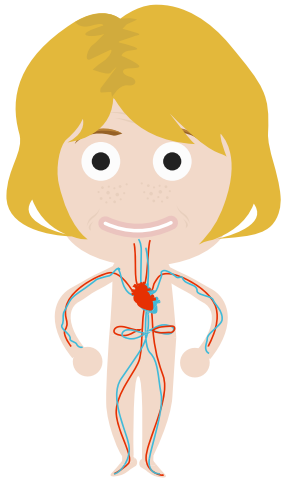


Por parejas, localizad las palabras clave de la función de nutrición en la siguiente sopa de letras:

S	O	M	D	N	E	A	E	N	E	R	G	I	A	N	R	C	N	A
B	U	D	I	G	E	S	T	I	O	N	A	S	G	A	V	O	R	P
A	O	S	A	O	I	U	E	S	O	S	E	U	Y	S	I	U	O	A
P	T	A	T	Z	X	M	T	Z	A	T	A	G	E	C	A	V	U	R
A	N	O	R	A	G	I	A	R	N	N	T	A	I	N	I	L	S	A
R	Q	I	E	D	N	R	G	E	P	U	G	R	O	T	S	O	L	T
A	A	O	I	S	O	C	I	E	G	I	T	R	S	O	N	R	P	O
T	X	O	R	C	T	R	I	R	N	U	R	E	E	A	S	E	U	C
O	A	X	O	R	T	O	R	A	N	O	G	A	G	R	U	N	L	I
E	I	A	D	U	O	C	M	E	S	I	S	R	V	O	S	E	M	R
X	O	O	N	A	M	E	D	A	D	D	O	I	L	C	J	R	O	C
C	O	A	S	A	I	N	I	O	G	L	E	C	A	D	O	O	N	U
R	R	A	O	T	O	O	T	S	I	O	A	D	E	O	N	A	E	L
E	I	E	O	I	R	A	C	T	E	I	I	E	E	R	D	A	S	A
T	N	P	C	D	R	P	T	E	U	I	U	R	N	S	N	S	N	T
O	A	N	O	A	A	L	I	M	E	N	T	O	G	N	E	E	E	O
R	U	S	P	C	A	A	G	E	V	E	N	A	S	U	Z	C	N	R
F	D	A	M	U	G	N	D	E	C	L	U	N	A	O	C	E	H	I
A	P	A	R	A	T	O	R	E	S	P	I	R	A	T	O	R	I	O

- Aparato digestivo
- Alimento
- Digestión
- Estómago
- Aparato circulatorio
- Sangre
- Corazón
- Venas
- Aparato respiratorio
- Oxígeno
- Pulmones
- Aparato excretor
- Sustancias de desecho
- Orina
- Función de nutrición
- Nutrientes
- Órganos
- Energía

A continuación, clasifica cada palabra clave con el aparato al que corresponde de la función de nutrición. Debajo de cada silueta encontrarás unas líneas en las que escribir las palabras.



.....

.....

.....

.....

.....


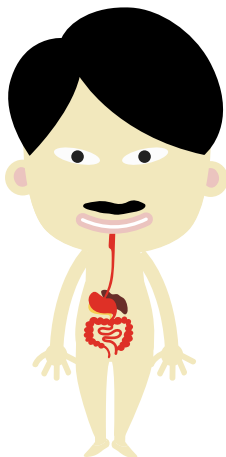
.....

.....

.....

.....

.....



.....

.....

.....

.....

.....

.....

.....

.....

.....

.....

Por último, añadid entre las dos personas los nombres de los órganos que conocáis de los diferentes aparatos que hacen posible la función de nutrición:
